

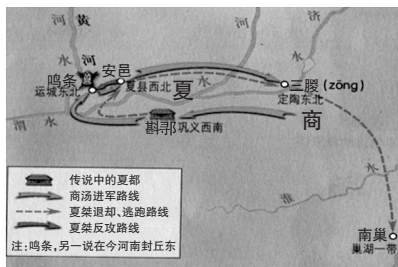
历史部分

一、选择题(本大题共20小题,每小题2分,共40分。在每小题列出的四个选项中,只有一项符合题目要求。请将答案按要求填涂在答题卡的相应位置)

1. 小唐同学在参观西安半坡博物馆时,能感受到
- A. 干栏式建筑的巧妙
B. 彩陶纹饰的古朴美
C. 青铜器的高超工艺
D. 甲骨文的造字特点

2. 右边形势图可用于研究

- A. 国家的产生
B. 朝代的更替
C. 西周的分封制
D. 春秋争霸战争



3. 秦开创的体制包含三大要素:君主“独制”,地方集权于中央,以及官僚任免而不得世袭。材料中“体制”的创立

- A. 奠定了中国封建政治制度的基本格局
B. 确立了儒学的主导地位
C. 标志着专制主义中央集权发展到顶峰
D. 导致阶级矛盾严重激化

4. 中国民间自古有给小孩佩戴“长命锁”的风俗,这寄托了家族对子孙后代的期盼。右图是一枚银质的“长命锁”,它反映了

- A. 书法艺术上的杰出成就
B. 白银逐渐成为主要货币
C. 古代手工业技术世界领先
D. 科举制对百姓生活的影响



5. “及范阳节度使反,犯京师,天子之兵弱不能抗,遂陷两京。肃宗起灵武,而诸镇之兵共起诛贼。”材料所述历史事件导致了

- A. 东汉末年社会动荡
B. 隋朝灭亡
C. 唐朝由盛转衰
D. 金与南宋对峙

6. 北宋中后期,在东京的阳春三月,“举目则秋千巧笑”,荡秋千已十分普及,还出现了“水秋千”,把跳水和荡秋千结合起来,相当于现在的“花样跳水”。材料从侧面反映了

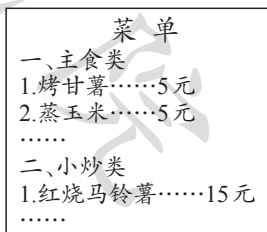
- A. 经济重心南移最终完成
B. 宋词元曲广泛流行
C. 北宋时期商业贸易繁荣
D. 都市生活丰富多彩

7. “总括农家诸书,裒(聚)为一集。凡农本三卷,皆经史百家有关民事之言,而终以明代重农之典。”材料介绍的是

- A. 《史记》
B. 《齐民要术》
C. 《农政全书》
D. 《天工开物》

8. 右边菜单中的食材最早传入中国是在

- A. 战国时期
B. 秦汉时期
C. 魏晋时期
D. 明清时期



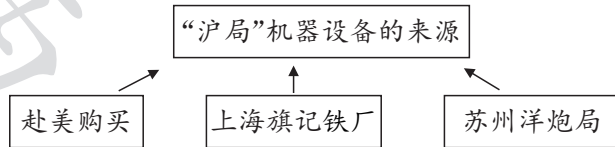
9. 阅读下表,分析各省区上奏捐输的银两主要用于

各省区捐输情况表(部分) (注:道光帝1820—1850年在位)

地区	上奏人	上奏时间(道光)	银(两)
福建	保昌	二十年十二月十七日	20000
浙江	刘韵珂	二十一年十月初四日	1200000
广东	奕山	二十二年十月十九日	1800000

- A. 虎门销烟的开支
B. 鸦片战争的军费开支与战争赔款
C. 镇压太平天国运动的军费开支
D. 第二次鸦片战争的军费开支与战争赔款

10. 观察下图,由此判断“沪局”



- A. 引进了西方先进器物
B. 是最大的民用企业
C. 达到了“自强”的目的
D. 是最大的军事企业

11. 小唐同学在整理档案时,摘抄如下案件资料。这一案件

时 间:1913年3月20日
被害人:宋教仁
经 过:被害人于上海火车站遭暴徒枪击,之后不治身亡
涉案人:袁世凯亲信及本人

- A. 标志着辛亥革命的失败
B. 反映袁世凯建立独裁统治的野心
C. 说明袁世凯复辟了帝制
D. 导致了军阀割据混战局面的出现

12. “内迁的高校,主要分布在四川、云南、陕西、贵州四省。其中四川最多,仅重庆一地就集中了二十五所。”出现这种情况的原因是

- A. 北伐的胜利进军
B. 侵华日军的步步进逼
C. 北平的和平解放
D. 国民党南京政权覆亡

13. 右图中,老年妇女的喜悦之情溢于言表,她的喜悦来自于

- A. 翻身成了土地的主人
B. 加入了农业生产合作社
C. 行使人民当家作主的权力
D. 家庭联产承包责任制的实行



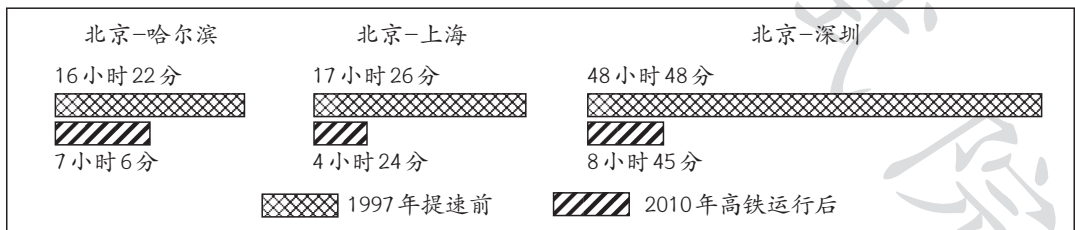
杨之光:《一辈子第一回》(国画·1954年)

14. 小唐同学暑假要完成一份关于中国20世纪80年代对外开放的调查报告,他应该实地考察

- A. 南昌
B. 浦东
C. 厦门
D. 武汉

15. 下图反映了

主要城市间铁路提速前后列车运行时间



- A. 人们出行方式的多样化
B. 居民文化生活日益丰富
C. 我国经济建设重大成就
D. 居民收入大幅度增长

16. 他创造了一个大帝国,为世界文化打上了深深的希腊烙印。“他”是
 A. 伯里克利 B. 亚历山大 C. 屋大维 D. 玻利瓦尔
17. “农奴为自己的劳动和他为地主的劳动在空间上和时间上是分开的。”材料中这种现象出现在
 A. 西欧封建庄园 B. 英国租地农场 C. 北美奴隶制种植园 D. 苏联集体农庄
18. 右图是某幅名画的卡通版,下列事件与这幅名画创作时间最接近的是
 A. 《汉谟拉比法典》的制定
 B. 日本大化改新
 C. 麦哲伦船队全球航行
 D. 巴尔扎克创作《高老头》
19. “如果行程顺利,到加勒比和美洲的目的地需要四至六周,这段旅程中,炎热、寒冷和疾病使‘活人货物’付出了沉重的代价。”材料体现了
 A. 三角贸易的血腥 B. 印第安人的悲惨处境
 C. 鸦片贸易的罪恶 D. 世界市场的最终形成
20. 他呼吁:我们伟大的力量在于团结一致,单独一个殖民地无法独立自存,但联合起来的整体却什么都能办到。在民族危难的关头,他的思想成为了革命的旗帜。材料中的“革命”指的是
 A. 英国资产阶级革命 B. 美国独立战争 C. 法国大革命 D. 美国南北战争



二、综合题(本大题共4小题,共40分)

21. (8分)阅读下列材料,回答问题。

小唐同学学习中国古代史后,想编写一本《中华文明史》,以下是他完成的部分目录:

中华文明史	
第一章 科学技术的杰出成就	
第一节 天文历算的演变	
天文观测 祖冲之	
第二节 中医药学的发展	
.....	
第三节 生产工具的革新	
曲辕犁 筒车	
第二章	

(1)请你参照第一、三节示例并结合所学知识,补充第二节内容。(2分)

(2)请你依据本书主题,按照第一章样式续写第二章目录(至少写出两节)。(6分)

22. (8分)阅读下列材料,回答问题。




①董必武在《联合国宪章》上签字



②《北大西洋公约》签字仪式



③中国加入世界贸易组织签字仪式



④《辛丑条约》签字仪式



⑤《华沙条约》签字仪式

(1)将上述图片反映的历史事件按时间先后顺序进行排序(只写序号)。(2分)

(2)将上述图片分成两类(只写序号),并说明分类的理由。(6分)

23. (11分)阅读下列材料,回答问题。

材料一 薪新的交通运输设施,集合了工业革命中涌现出来的一切精华:机械、钢铁、煤炭、蒸汽。它既是工业革命成就的大汇报、大展览,也将工业革命推向新高峰。

——摘自王斯德主编《世界通史》

(1)根据材料一并结合所学知识,列举一例新式交通工具。(2分)

材料二 高层建筑于19世纪末开始出现,19世纪中叶以前,欧美各国的城市建筑一般都在6层以下,主要原因在于垂直交通的限制。1852年,美国的奥蒂斯兄弟公司发明蒸汽动力升降机。1889年纽约的迪马列斯特大楼安装了主要用于运货的电动升降机,从此名副其实的“电梯”出现。

——摘编自王斯德主编《世界通史》

(2)根据材料二并结合所学知识,分析高层建筑出现的原因。(4分)

材料三 网上通信、快递物流、电子商务、远程教育等新事物逐渐深入人们的生活,改变了传统的生活方式。这也造成社会心理结构乃至价值观念的变化,形成开放、乐观、宽容、积极进取、适应变革的现代人性格特征。

——摘编自张建华主编《世界现代史》

(3)根据材料三,概述计算机网络技术的影响。(2分)

(4)请你提炼上述三则材料之间的线索。(3分)

24. (13分)历史之美,如诗、如歌、如画……阅读下列材料,回答问题。

【诗歌之美】

材料一 在某次诗歌征集比赛活动中,有位网友创作了一首七律诗:

红船颂

南湖红舫冠群英,击水中流破浪行。
引领工农除旧桎,点燃烽火启新程。
赤旗高映云和月,铁马长嘶血与情。
守得初心开盛世,百年圆梦史留名。

(1)根据材料一并结合所学知识,指出这首诗是为纪念哪一历史事件而作。(2分)

【人性之美】

材料二 赵云霄烈士怀孕四个月时不幸被捕,生下孩子不久后英勇就义,时年23岁,牺牲前给女儿留下一封遗书。

启明我的宝贝:

你是民国十八年正月初二日生的,但你的母亲在你才有一月有十几天的时候便与你永别了。你生来不知生父是什么样,更不知生母是如何人!小宝宝你的母亲不能抚养你了……你的父母是个共产党员……我的宝宝,当我死的时候你还在牢中……小宝宝,你的母亲不能多说了。血泪而成……

你的母亲于长沙陆军监狱署
泪涕三月二十四日

——摘自中国井冈山干部学院《红色家书——革命烈士书信选编》

(2)根据材料二并结合所学知识,写出赵云霄烈士被捕牺牲的历史背景。(2分)

【音乐之美】

材料三

大会师(节选)

肖华 词
晨耕等 曲

1=B $\frac{4}{4}$
激情地

3 - 6 - | 5· 3 5 6 | 7 - 6 5 | i - - - | i - - - |
红 军 红 军 威 名 天 下 扬

3 - 6 - | 5· 3 5 6 | 5 - 2 - | 1 - - - | 1 - - - |

转1=B (前2-后6)
欢欣鼓舞地 快速

(6 6 7 6 5 6 6 7 6 5 | 6 i 6 5 3 5 3 2 | 1 2 1 6 5 6 5 3 |
2 3 5 6 1 6 1 2 3 2 1 2 3 2 3 5 | 6 6 6 6 6 0 6 0 6 | 6 6 6 6 6 0 6 0 6)

女高 $\frac{2}{4}$ 6 7 6 5· 6 | i 2 i 6 - | 3· 5 3 2 i | 2 3 5 2 - | 3 2 3 5· 3 |
三 支 劲 旅 大 会 师

女低 $\frac{2}{4}$ 6 7 6 5· 6 | i 6 5 3 - | i· 2 6 5 3 | 5 3 5 2 - | i 6 5 i· 7 |

(3)根据材料三并结合所学知识,写出这首乐曲歌颂的历史事件。(2分)

【绘画之美】

材料四



邓澍:《保卫和平》(宣传画·1951年)

(4)结合所学知识,指出材料四蕴含的史实,并对这幅宣传画进行简要解读。(4分)

【感悟之美】

(5)综合上述材料,谈谈你从中获得的历史感悟。(3分)