

# 江西经济管理干部学院 2022 年高职单独招生

## 《职业技能》科目试卷 ( A 卷 )

题号	一	二	三	四	五	总分
得分						
阅卷人						

注意事项：1. 试卷包含思想道德与时事政治、计算机基础、逻辑思维、心理素质和人文素养五部分，共 300 分，考试时间 90 分钟。  
2. 请将答案填写在答题纸上，写在试卷上无效。

### 第一部分 思想道德与时事政治

一. 判断题 (判断下面每小题对与错, 对的打“√”, 错的打“×”, 本题共 4 小题, 每小题 5 分, 共 20 分)

1. 举办中国国际进口博览会, 是我国推动建设开放型世界经济的实际行动。( )
2. 中国共产党把实现人民对美好生活的向往作为党的最终目标。( )
3. 只要树立高度的文化自信就能创造出震撼心灵的文化精品。( )
4. 毛泽东思想是马克思主义中国化的最新成果。( )

二. 单项选择题 (下面每小题后面有四个选项, 只有一项最符题意, 本题共 20 小题, 每小题 4 分, 共 80 分)

5. 2021 年 10 月 16 日 0 时 23 分, 搭载神舟十三号载人飞船的长征二号 F 遥十二运载火箭, 在酒泉卫星发射中心按照预定时间精准点火发射, 顺利将 \_\_\_\_\_ 3 名航天员送入太空, 发射取得圆满成功。( )  
A. 杨利伟、费俊龙、张晓光                      B. 景海鹏、刘旺、刘洋  
C. 聂海胜、刘伯明、汤洪波                      D. 翟志刚、王亚平、叶光富
6. 2022 年 1 月 19 日, 国务院批复同意将江西省 \_\_\_\_\_ 列为国家历史文化名城。( )  
A. 九江市                      B. 抚州市                      C. 宜春市                      D. 共青城市
7. 2021 年末, 西安突发新冠肺炎疫情。全国多地、社会各界第一时间捐赠抗疫物资驰援西安, 形成了抗击疫情的最大合力。这些捐赠的“物资” ( )  
A. 是商品, 因为它能够满足西安人民的需要  
B. 不是商品, 因为它有价值但没有使用价值

报考专业:

姓名:

准考证号:

考生号:

线  
封  
密

- C. 是商品,因为它消耗了无差别的人类劳动  
D. 不是商品,因为它没有进入流通领域用于交换
8. 《2021 全球支付报告》数据显示,我国国内所有的支付方式中,移动支付占比达到 50%,成为了我国消费者选择最多的支付方式。截至 2021 年 6 月,中国网络支付用户规模达到 87221 万,较 2020 年 12 月增长 1787 万。移动支付的快速发展 ( )
- A. 提高货币流通速度,必然引起通货膨胀  
B. 优化货币的职能,将完全取代现金支付  
C. 降低交易的成本,使消费更加方便快捷  
D. 降低消费的成本,使消费结构更加合理
9. 2021 年 11 月 5 日至 10 日,第四届中国国际进口博览会在国家会展中心举行。在本次博览会中,绿色低碳、可持续发展生产及消费理念贯穿展区各品类。以下体现绿色消费理念的是 ( )
- ①勤俭节约,减少消费      ②物质消费与精神消费并重  
③多次利用,节约资源      ④选购环保商品,减少污染
- A. ①②                      B. ①③                      C. ②④                      D. ③④
10. 某市属国企在混合所有制改革前由市国资委持股 100%,2021 年引入战略投资者后,国资委仅持股 45%。2022 年 1 月,该企业营业收入同比增长 20%,利润增长超过 40%。由此可见,混合所有制改革能 ( )
- A. 强化对国有资产的监管      B. 实现多种所有制资本优势互补  
C. 促进收入分配制度完善      D. 提高国有资本在社会总资产中的比重
11. 2021 年 12 月 20 日,税务部门发布通报,头部网络主播黄某(网名:某娅)偷逃税被罚共计 13.41 亿元。调查显示,黄某在 2019 年至 2020 年期间,通过隐匿个人收入、虚构业务转换收入性质虚假申报等方式偷逃税款 6.43 亿元,其他少缴税款 0.6 亿元,依法对黄某作出税务行政处罚决定,追缴税款、加收滞纳金并处罚款,共计 13.41 亿元。对此看法正确的是 ( )
- ①依法诚信纳税是公民的义务,也是承担社会责任的表现  
②相关处罚有利于促进平台经济等经济新业态健康发展  
③税务机关要拓宽税收征收渠道,做到应收尽收  
④国家应提高税收执法行为的公平性,维护司法权威
- A. ①②                      B. ①④                      C. ②③                      D. ③④
12. 我国持续加大对“三农”的扶持力度,对农产品实行最低保护价格,扩大农村医疗保障系统,加大农业基础建设,加强水利设施和设备的利用及投入,使农民增产又增收,城乡发展一体化进程不断推进。这主要反映的我国市场经济的特征是 ( )
- A. 以共同富裕为根本目标      B. 坚持公有制的主体地位  
C. 能处理好政府和市场的关系      D. 以宏观调控作为资源配置的基本手段
13. 2021 年 7 月的郑州,洪水肆虐,汛情紧急。在这防汛救灾的危机关头,

中国共产党始终把保证人民群众生命财产安全放在第一位，以极大的政治担当和勇气，以非常之举应对非常之事。这体现了（ ）

- ①我国社会主义民主是最广泛的民主    ②我国是人民民主专政的社会主义国家  
③我国公民的政治权利得到充分实现    ④我国注重保障人民的生存权和发展权

A. ①②                      B. ①③                      C. ②④                      D. ③④

14. 甲同学经过调查，发现自“双减”实施以来，义务教育阶段某些学科的作业量仍存在过重现象，于是通过“市长信箱”提出意见建议，并得到回应，该同学行为（ ）

- ①保障了公民享有对涉及公共利益的决策权和知情权  
②能提高自身参与社会治理能力和发展公共参与素养  
③有利于推动政府依法行政，增强政府的公信力和执行力  
④完善了行政监督体制，提高了民主监督水平

A. ①②                      B. ①④                      C. ②③                      D. ③④

15. 一百年前，中国共产党的先驱们创建了中国共产党，形成了坚持真理、坚守理想，践行初心、担当使命，不怕牺牲、英勇斗争，对党忠诚、不负人民的伟大建党精神，这是中国共产党的精神之源。这说明，中国共产党一直（ ）

- ①坚持马克思主义，为实现共产主义而奋斗  
②践行初心与使命，将人民利益放在第一位  
③发挥执政党的作用，立党为公、执政为民  
④发挥先锋模范作用，谱写新时代英雄赞歌

A. ①②                      B. ②③                      C. ①④                      D. ③④

16. 围绕中共中央、国务院 2021 年 10 月印发的《黄河流域生态保护和高质量发展规划纲要》，沿黄九省(区)政协召开协商研讨会，形成了《关于进一步推进黄河流域水土保持和水污染防治的提案》，准备提交给十三届全国政协。由此可见（ ）

- ①政协委员通过提案决定国家大事    ②各民主党派聚焦党和国家的重要工作  
③参政议政是人民政协的重要职能    ④政协是国家治理体系的重要组成部分

A. ①②                      B. ③④                      C. ①③                      D. ②④

17. 2021 年 6 月 10 日，十三届全国人大常委会表决通过的《中华人民共和国反外国制裁法》规定，外国国家违反国际法和国际关系基本准则，以各种借口或者依据其本国法律对我国进行遏制、打压，对我国公民，组织采取歧视性限制措施，干涉我国内政的，我国有权采取相应反制措施。反外国制裁法的实施（ ）

- ①意在展示我国日益增强的综合国力和自信

- ②旨在更好地维护我国的主权、安全和发展利益
- ③反映了我国与其他国家具有不同的国际法律地位
- ④符合中国外交政策的基本目标和人民的共同愿望

A. ①②                      B. ①③                      C. ②④                      D. ③④

18. 2021 年春节档电影回归大银幕、博物馆展览持续上新、剧院舞台好戏不断……各地异彩纷呈的文化活动驱散了就地过年的万千游子内心的寂寞与焦躁，让他们体会到了“此心安处是吾乡”，由此可见，文化（    ）

- ①为人们认识真善美提供精神指引                      ②是人类进步和开化状态的物质力量
- ③能让人产生归属感、获得感、幸福感                      ④对提高社会文明程度具有决定作用

A. ①②                      B. ①③                      C. ②④                      D. ③④

19. 第 44 届世界遗产大会于 2021 年 7 月 16 日在福州举行。目前，我国共有 55 项世界遗产与意大利并列第一。世界文化和自然遗产是人类文明发展和自然演进的重要成果，也是促进不同文明交流互鉴的重要载体。保护好、传承好、利用好世界遗产是人类文明赓续和世界可持续发展的必然要求。我国重视对文化遗产的保护，是因为（    ）

- ①文化遗产是人类社会实践的产物
- ②文化既是民族的，也是世界的
- ③文化遗产有利于展现世界文化的多样性
- ④文化遗产是一个民族区别于其他民族的独特标识

A. ①③                      B. ②④                      C. ①④                      D. ②③

20. 电影《长津湖》引发观影热潮，打破多项中国影史纪录。集结一流制作团队，塑造丰满人物形象，运用高科技拍摄制作技术……这部影片以史诗巨制的规模再现抗美援朝战争场面，致敬伟大精神。据此可以推断出电影《长津湖》（    ）

- ①是优秀文化的物质载体，对社会发展起推动作用
- ②承载着家国情怀，有利于弘扬伟大的民族精神
- ③传承新时代文化，有利于践行社会主义核心价值观
- ④丰富了新中国文化史，有利于国家物质文明发展

A. ①②                      B. ①③                      C. ②④                      D. ③④

21. 每一个现代科学家，特别是每一个理论物理学家，都深刻意识到自己的工作同哲学思维错综地交织在一起的，要是对哲学文献没有充分的知识，他们的工作就会是无效的。这表明（    ）

- A. 哲学是世界观和方法论的统一                      B. 哲学对具体科学研究有指导作用
- C. 具体科学的进步推动哲学的发展                      D. 科学研究活动都自觉接受哲学指导

22. 2021 年是辛亥革命 110 周年，也是中国共产党成立 100 周年。辛亥革命推动了国人的思想解放。中国共产党在中国革命的具体实践中创立了毛

泽东思想，领导中国革命取得胜利，建立新中国，实现了辛亥革命先辈未曾实现的理想，并为中华民族伟大复兴开辟了广阔的前景。这说明（ ）

- ①理性认识是社会实践的目的 ②实践的发展具有社会历史性  
③历史实践推动了认识的发展 ④实践是客观见之于主观的活动

A. ①② B. ①④ C. ②③ D. ③④

23. 2021 年 4 月，日本政府向海洋排放核污水的决定引发了全球关注。国际社会呼吁，“排污入海”显然不仅仅是日本国内的问题，更是影响全球海洋生态、食品安全和人类健康的全球性问题，这是极不负责任的自私、轻率之举。国际社会的这一态度是基于（ ）

- ①联系具有客观性，要建立有利于人类生存的自在联系  
②联系具有普遍性，要理性认识该行为可能产生的后果  
③联系具有能动性，要根据人的意愿改造事物固有联系  
④联系具有多样性，要分析事物存在和发展的各种条件

A. ①③ B. ①④ C. ②③ D. ②④

24. 施行 11 年的《反垄断法》迎来首次“大修”。与“旧法”相比，最显著的变化之一是新增互联网经营者市场支配地位认定依据。“旧法”出台时，很多互联网企业还没有成气候，更谈不上滥用市场支配地位的问题。但近年来，在互联网日益发展的同时，也存在着互联网企业滥用垄断优势地位，游离在《反垄断法》之外，“霸王条款”日渐升级等问题。可见，这次修法的哲学依据是（ ）

- ①社会存在的变化发展决定社会意识的变化发展  
②上层建筑一定要适合经济基础的发展状况  
③生产关系一定要适应生产力的发展状况  
④辩证的否定是实现新事物产生和旧事物灭亡的唯一途径

A. ①② B. ①③ C. ②④ D. ③④

### 三. 材料题（本题共 1 小题， 20 分）

25. 阅读材料，回答问题。

“每一个公民都应该为自己的网络发言负责，建议我国实行网络实名制。”全国人大代表、中国葛洲坝集团公司总经理丁焰章在审议全国人大常委会工作报告时建议。该建议一经提出，立即引发了人们的广泛争议。赞成实行网络实名制者认为，这可以防止网络自由滥用，是对公民权利和自由的保护；反对实行网络实名制者认为，在我国对公民权利保障还不充分的情况下，实行网络实名制会导致公民信息泄露，同时还会影响公民对政府的监督的积极性。

请你就公民应如何正确利用网络参与政治生活提出建议。

## 第二部分 计算机基础

### 一. 判断题 (判断下面每小题对与错, 对的选“A”, 错的选“B”, 本题共 4 小题, 每小题 5 分, 共 20 分)

1. 所有被删除的文件都能在回收站里找回。 (A B)
2. 系统软件是为了解决某一特定问题而专门开发设计的软件。 (A B)
3. Word 是一款功能强大的文档编辑软件。 (A B)
4. 无法将图片插入到 Excel 电子表格中。 (A B)

### 二. 单项选择题 (本题共 10 小题, 每小题 4 分, 共 40 分)

5. 当代电子计算机所采用的电子元件是 ( )  
A. 电子管 B. 晶体管 C. 继电器 D. 大规模或超大规模集成电路
6. 以下不属于微型计算机特点的是 ( )  
A. 体积小 B. 配置灵活 C. 价格便宜 D. 使用方便
7. Windows 中的活动窗口可以有 ( ) 个  
A. 1 B. 2 C. 3 D. 4
8. 计算机病毒是一种 ( )  
A. 微生物感染 B. 化学感染 C. 程序 D. 物质
9. 以下设备中, 断电后信息会丢失的是 ( )  
A. 硬盘 B. 内存 C. 光盘 D. U 盘
10. 在 Excel 的单元格中输入公式时, 需要先输入一个 ( ) 号。  
A. = B. " C. : D. '
11. 终端设备想要访问互联网时, 必须具备的硬件是 ( )  
A. 鼠标 B. 键盘 C. 网卡 D. 浏览器
12. 以下不是图像文件格式的是 ( )  
A. BMP B. JPG C. GIF D. RTF
13. PowerPoint 中, 超链接不可以链接的对象是 ( )  
A. 文件 B. 幻灯片内的对象 C. 视频 D. 网页
14. 在我们的身边, 越来越多的设备通过无线设备发射的 wifi 信号上网, wifi 传输是通过 ( ) 信号实现的。  
A. 红外线 B. 无线电波 C. 蓝牙 D. 激光

## 第三部分 逻辑思维

### 一. 填空题 (本大题共 4 题, 共 22 分)

#### 1. 按规律填数 (6 分)

- ① 2、4、6、8、10、12、( )
- ② 3、4、6、9、13、18、( )
- ③ 3、4、6、9、14、22、( )

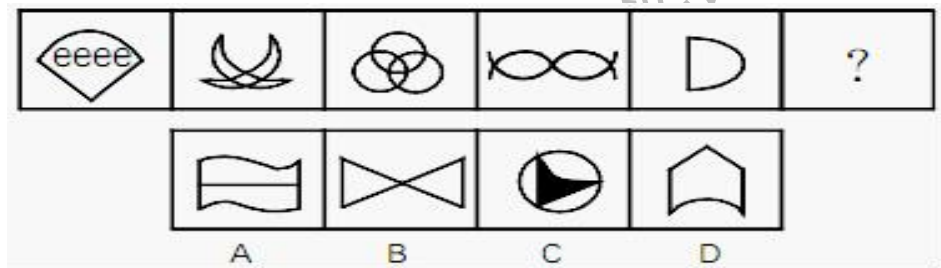
2. 四年级一班全体同学站成一排，当从左往右报数时，小华同学报数为 18，当从右往左报数时，小华报数为 13，那么该班学生有（ ）名？（5 分）

3. 一次数学考试共出 10 道题，每一道题比后一道题少 2 分，满分 100 分。问第一道题\_\_\_\_\_分？（5 分）

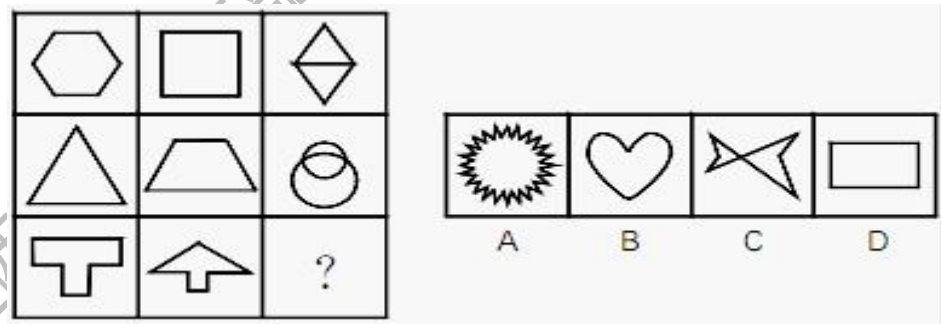
4. 小王、小张、小赵三个人是好朋友，他们中间其中一个人下海经商，一个人考上了重点大学，一个人参军了。此外他们还知道以下条件：小赵的年龄比士兵的大；大学生的年龄比小张小；小王的年龄和大学生的年龄不一样。请推出这三个人中商人是\_\_\_\_\_，大学生是\_\_\_\_\_，士兵是\_\_\_\_\_。（6 分）

**二. 单项选择题（本题共 9 小题，每小题 2 分，共 18 分。）**

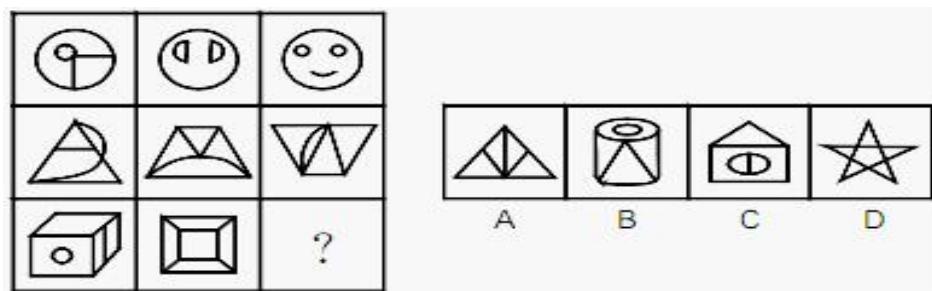
1. 请从所给的四个选项中，选择最合适的一个填入问号处，使之呈现一定的规律性：（ ）



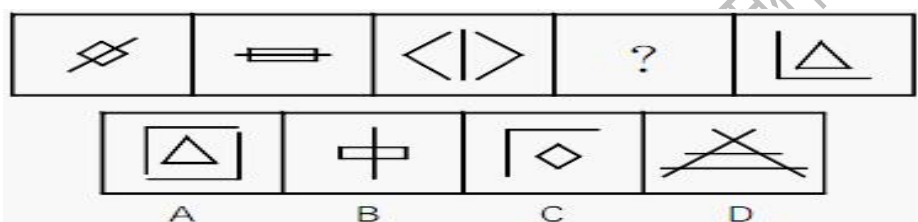
2. 请从所给的四个选项中，选择最合适的一个填入问号处，使之呈现一定的规律性：（ ）



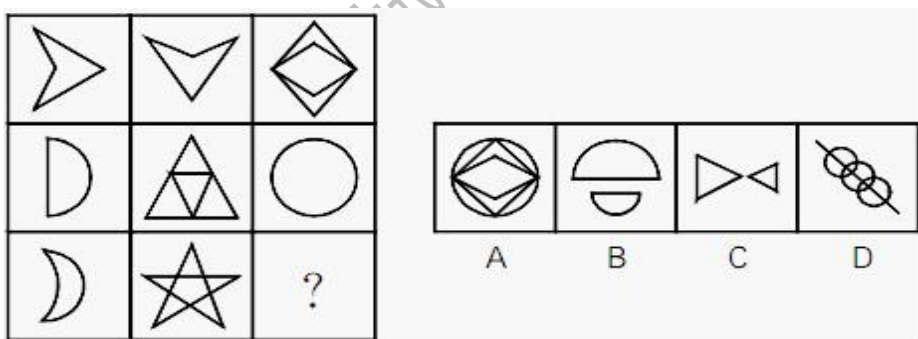
3. 请从所给的四个选项中，选择最合适的一个填入问号处，使之呈现一定的规律性：（ ）



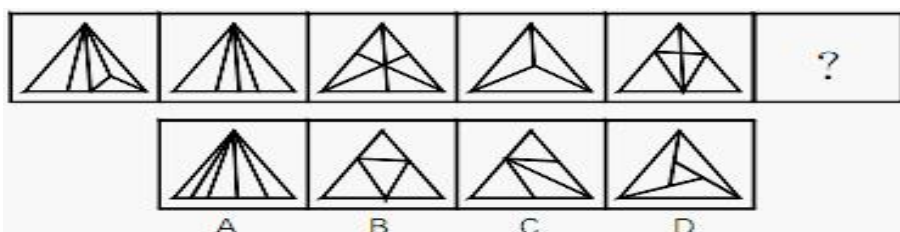
4. 从所给的四个选项中，选择最合适的一个填入问号处，使之呈现一定的规律性：（ ）



5. 从所给的四个选项中，选择最合适的一个填入问号处，使之呈现一定的规律性：（ ）

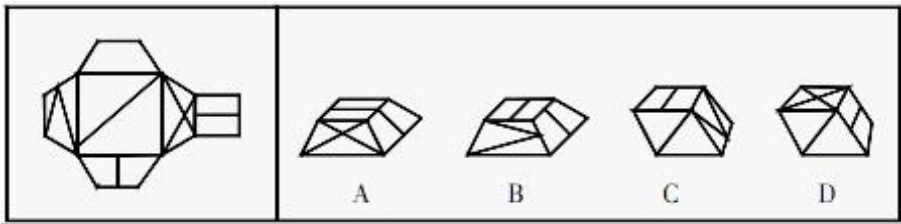


6. 请从所给的四个选项中，选择最合适的一个填入问号处，使之呈现一定的规律性：（ ）

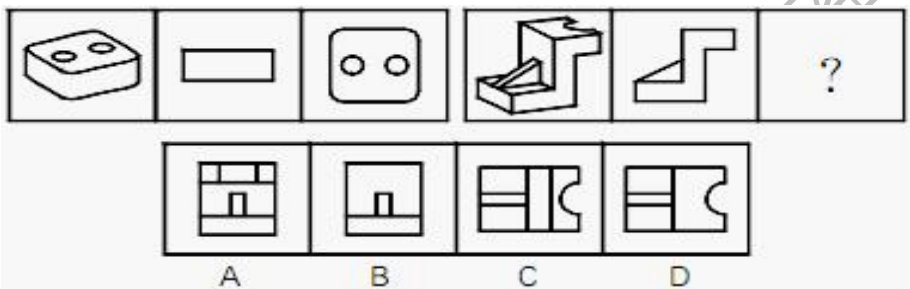




7. 左边给定的是纸盒的外表面，下面哪一项能由它折叠而成？（ ）



8. 请从所给的四个选项中，选择最合适的一个填入问号处，使之呈现一定的规律性：（2分）



9. 将 a、b、c、d 四本书放在书架上，b 在 c 的左侧。如果 b 和 c 相邻，则 d 和 b 一定也相邻。问：共有几种可能的摆放顺序？（ ）

A. 1 种 B. 2 种 C. 3 种 D. 4 种

### 第四部分 心理素质

一. 单项选择题（本题共 8 小题，每小题 5 分，共 40 分）

1. “情人眼里出西施”反映的是哪种现象？（ ）  
A. 刻板效应 B. 首因效应 C. 光环效应 D. 近因效应
2. 按照心理学的观点，大部分的心理问题来源于（ ）  
A. 家庭内部 B. 社会环境 C. 人际关系的处理 D. 自身的内部冲突
3. 弗洛伊德的人格结构不包括（ ）  
A. 自我 B. 镜我 C. 本我 D. 超我
4. 交往双方能否成为知己，关键在于各自能否（ ）  
A. 改善交往情境 B. 向对方示好 C. 增加交往频率 D. 向对方做自我表露
5. 所谓“以小人之心度君子之腹”是下列哪种心理防卫机制的表现？（ ）  
A. 否认作用 B. 合理化作用 C. 投射作用 D. 幻想作用
6. 一般认为，（ ）强度的动机有利于任务的完成。  
A. 高等 B. 中等 C. 低等 D. 极高
7. 马斯洛需要层次理论最高层次的需要是（ ）

- A. 自我实现的需要      B. 生理需要      C. 安全需要      D. 尊重需要
8. 某大一学生小明，经常感觉自己的车没有上锁，然后跑到停车点查看，请问该生患有什么症状（）。
- A. 焦虑症      B. 强迫症      C. 疑病症      D. 偏执狂

## 第五部分 人文素养

### 一. 单项选择题（本题共 10 小题，每小题 4 分，共 40 分）

1. （ ）是中国南北朝时期杰出的数学家、天文学家，他首次将“圆周率”精算到小数第七位。
- A. 张衡      B. 祖冲之      C. 宋应星      D. 徐霞客
2. 明朝戏曲家、文学家，有《牡丹亭》等代表作，被誉为“东方莎士比亚”的是（ ）。
- A. 孔尚任      B. 汤显祖      C. 关汉卿      D. 李渔
3. 加强道德修养，是培养（ ）修养的基础。
- A. 内涵      B. 文化      C. 礼仪      D. 个人
4. 世界卫生组织表示，保持一定的社交距离是预防新型冠状病毒感染的有效措施之一，建议人们之间保持至少（ ）米的社交距离。
- A. 0.5      B. 1      C. 3      D. 5
5. 下列传统节日中，那个来源于二十四节气？（ ）。
- A. 清明节      B. 端午节      C. 中秋节      D. 元宵节
6. “人非圣贤，孰能无过。”在人际交往中，我们应当学会宽容，善于原谅，这是（ ）。
- A. 有失体面的表现      B. 软弱可欺的表现  
C. 宽以待人的表现      D. 好坏不分的表现
7. 建立和谐的人际关系，增强人际吸引的特征不包含（ ）。
- A. 苛刻的要求      B. 高尚的品德      C. 积极的心态      D. 幽默的谈吐
8. （ ）的基本含义是要求人们在交际活动中运用礼仪时，不仅要严于律己，更要宽以待人。
- A. 宽容自律      B. 人际交往      C. 信守诺言      D. 社交礼仪
9. 在戏曲的角色行当中，扮演男性人物的是（ ）。
- A. 净      B. 旦      C. 丑      D. 生
10. 人影艺术就是人在配合灯光的情况下利用（ ）与影的特殊效果，形成或大或小的各种不同造型的图案，是一门独特的视觉艺术。
- A. 折射      B. 人影      C. 光      D. 艺术